

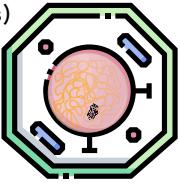
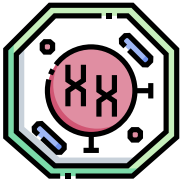
Tema 2 *La reproducción celular*

Criterios para este tema son:


- ByG 1.2 Identificar el núcleo celular y su organización según las fases del ciclo celular a través de la observación directa o indirecta. CMCT
- ByG 1.3 Comparar la estructura de los cromosomas y de la cromatina. CMCT
- ByG 1.4 Formular los principales procesos que tienen lugar en la mitosis y la meiosis y revisar su significado e importancia

Examen del Tema 2

1) El núcleo es ¿interfásico o en división? [Ex T2 1.2] (2 pts)

Núcleo interfásico Núcleo en división



2) Observa esta célula y contesta

a) El núcleo es ¿interfásico o en división? [Ex T2 1.2] (1 pts)

b) El cromosoma es metacéntrico [Ex T2 1.3] (1 pts)

c) ¿En qué fase se encuentra la célula? [Ex T2 1.4] (1 pts)

